


ANAND PUBLIC SCHOOL

HAPPY HOLIDAYS

DATESHEET FOR P.T-4 EXAMS (2025-26)

Date	Day	Nur.	L.KG	U.KG
16 Jan, 2026	Friday	Eng.+Oral	Eng.+Oral	Eng.+Oral
20 Jan, 2026	Tuesday	Hindi+Oral	Hindi+Oral	Hindi+Oral
24 Jan, 2026	Saturday	Draw. & Rhymes	Draw. & Rhymes	Draw. & Rhymes
28 Jan, 2026	Wednesday	G.K & Conv.	G.K & Conv.	G.K & EVS
30 Jan, 2026	Friday	Maths+Oral	Maths+Oral	Maths+Oral



**WINTER
VACATION
HOMEWORK**





About myself



My name is _____.

My nick name is _____.

My birthday is on _____.

I am _____ year old.

I am a _____. (boy/girl)

I study at _____ school.

I am in grade _____.

My favorite subject is _____.


My best friend's name is _____.

I want to be a _____.



Name _____ Vegetables

Vegetables



celery

eggplant

pepper

beans

broccoli

corn

Days of the Week

Write the day in the box that comes in between!

Wednesday

Friday

Monday

Wednesday

Tuesday

Thursday

Friday

Sunday

Saturday

Monday

Thursday

Saturday

Use of a/an



___ mango



___ cap



___ tomato



___ egg



___ owl



___ whistle



___ book



___ igloo



___ ant



___ umbrella



___ apple



___ tree

ADDING 2 MORE

Add and write the sum.

$$\begin{array}{r} 2 \\ +2 \\ \hline \end{array}$$

$$\begin{array}{r} 7 \\ +2 \\ \hline \end{array}$$

$$\begin{array}{r} 4 \\ +2 \\ \hline \end{array}$$

$$\begin{array}{r} 8 \\ +2 \\ \hline \end{array}$$

$$\begin{array}{r} 4 \\ +2 \\ \hline \end{array}$$

$$\begin{array}{r} 3 \\ +2 \\ \hline \end{array}$$

$$\begin{array}{r} 3 \\ +2 \\ \hline \end{array}$$

$$\begin{array}{r} 6 \\ +2 \\ \hline \end{array}$$

$$\begin{array}{r} 1 \\ +2 \\ \hline \end{array}$$

$$\begin{array}{r} 7 \\ +2 \\ \hline \end{array}$$

$$\begin{array}{r} 2 \\ +2 \\ \hline \end{array}$$

$$\begin{array}{r} 5 \\ +2 \\ \hline \end{array}$$

Write the correct symbol in the boxes. The first is done for you.

$4 < 6$

$9 \square 3$

$5 \square 4$

$2 \square 2$

$7 \square 8$

$3 \square 5$

$23 \square 18$

$12 \square 12$

$76 \square 69$

$45 \square 55$

$9 \square 90$

$16 \square 8$

$64 \square 52$

$37 \square 37$

$89 \square 91$

$27 \square 29$

$42 \square 40$

$65 \square 68$

$71 \square 23$

$32 \square 33$

$39 \square 40$

$53 \square 35$

$13 \square 14$

$11 \square 11$

$82 \square 92$

$29 \square 26$

$72 \square 69$

Match the number name to the number.


1		eight
2		two
3		three
4		six
5		four
6		one
7		ten
8		five
9		seven
10		nine

Name:

Class:

चित्रों को देखे और आ की मात्रा से शुरू होने वाले शब्द लिखे।



Example



जाला



8



चित्र देखकर खाली स्थान भरिए :-



_____ पर निशान मत लगा।




_____ का शिकार मत कर।



_____ खत लाया।



_____ इधर ला।



सरिता _____ मत पकड़।



_____ चला।

1. 'ई' की मात्रा (ी) लगाकर शब्द बनाओ -

लकर जवन लड़क

चालस मछल गरब

पतला पपल शरर

पपता निचल तितल

2. नीचे दिए गए चित्रों को देखकर शब्द पूरे करो -



छत _____



खिड़ _____



तित _____



_____ छ



बक _____




मछ _____

नाम



नाम शब्द - शरीर के अंगों के नाम

शरीर के अंगों के नाम पहचान कर दिए गए स्थान में लगाइए।



सिर

आँख

माथा

नाक

गाल

कान

बाल

हाथ

सीना

पेट

कमर

टांग

पैर

कोहनी

घुटना

दिए गए शब्दों की सहायता से वाक्य पूरे कीजिए ।



चार, विद्यालय, घड़ी, बच्चे, माताजी

1. यह एक _____ का चित्र है ।
2. _____ छुट्टी के बाद घर जा रहे हैं ।
3. विद्यालय के सामने की दीवार पर एक _____ लगी है।
4. एक बच्चा अपनी _____ की गोद में है ।
5. चित्र में कुल _____ बच्चे हैं ।

CS Academy

Worksheet (इ और ई matra)

सही शब्द चुनिए :

कि

ली

दी

ती

ड़ि

मि

रि

वि

टी



चि या



तित



बा श



धर



सान



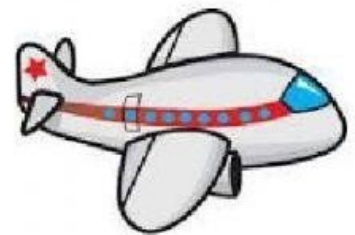
न



ठाई



सी




मान

आ की मात्रा के शब्द

चित्रों को देखो, शब्दों को ' ा ' मात्रा से पूरा करो और उनमें रंग भरो

Look at the pictures, complete the words with ' ा ' MATRA and colour them

घड़___



न___व



झरन___



तलव___र



मक___न



Subtractions

$$\begin{array}{r} 3 \\ - 2 \\ \hline \end{array}$$

$$\begin{array}{r} 4 \\ - 1 \\ \hline \end{array}$$

$$\begin{array}{r} 5 \\ - 0 \\ \hline \end{array}$$

$$\begin{array}{r} 2 \\ - 0 \\ \hline \end{array}$$

$$\begin{array}{r} 2 \\ - 1 \\ \hline \end{array}$$

$$\begin{array}{r} 5 \\ - 0 \\ \hline \end{array}$$

$$\begin{array}{r} 2 \\ - 2 \\ \hline \end{array}$$

$$\begin{array}{r} 3 \\ - 1 \\ \hline \end{array}$$

$$\begin{array}{r} 3 \\ - 0 \\ \hline \end{array}$$

$$\begin{array}{r} 3 \\ - 2 \\ \hline \end{array}$$

$$\begin{array}{r} 4 \\ - 0 \\ \hline \end{array}$$

$$\begin{array}{r} 5 \\ - 0 \\ \hline \end{array}$$

$$\begin{array}{r} 4 \\ - 1 \\ \hline \end{array}$$

$$\begin{array}{r} 2 \\ - 1 \\ \hline \end{array}$$

$$\begin{array}{r} 4 \\ - 0 \\ \hline \end{array}$$

$$\begin{array}{r} 4 \\ - 1 \\ \hline \end{array}$$

$$\begin{array}{r} 3 \\ - 1 \\ \hline \end{array}$$

$$\begin{array}{r} 5 \\ - 0 \\ \hline \end{array}$$


$$\begin{array}{r} 1 \\ - 0 \\ \hline \end{array}$$

$$\begin{array}{r} 1 \\ - 1 \\ \hline \end{array}$$

Cotton Pasting Activity



Bindi Pasting Activity



Make a
Paper
Carrot

Make a Wall Hanging Days of the Week

