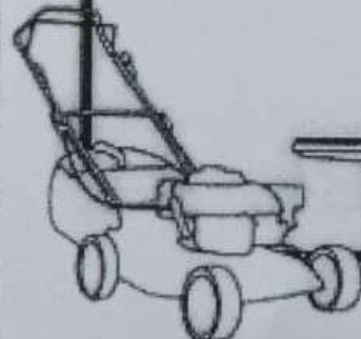

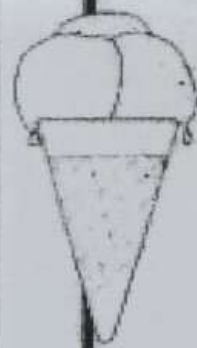


***K.V.M Public School***

**Haldwani**

**HOLIDAY**

**Homework**



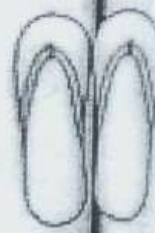

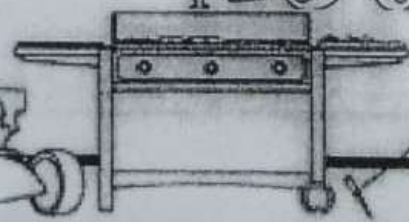



Class-III

NAME- \_\_\_\_\_

SEC- \_\_\_\_\_

**Summer  
vacation  
starts  
NOW!**





## **SUMMER BREAK DETAILS**

\* Summer Vacation- 22 May, 2025 to 30 June, 2025

\* School will reopen on 1 July, 2025




# ENGLISH HOMEWORK

NAME-\_\_\_\_\_ CLASS- III SECTION-\_\_\_\_\_

## 1. Read the passage and circle all the nouns:-

In a green meadow, a little rabbit named Rosie lived. She loved to play with her friend, Ben the butterfly and Lily the ladybug. Rosie had a cozy burrow with soft grass and colorful flower.

## 2. Describe what you see in the picture using the words given below:-



Trees , Flowers, Grass, Birds, Butterflies, Bees

---

---

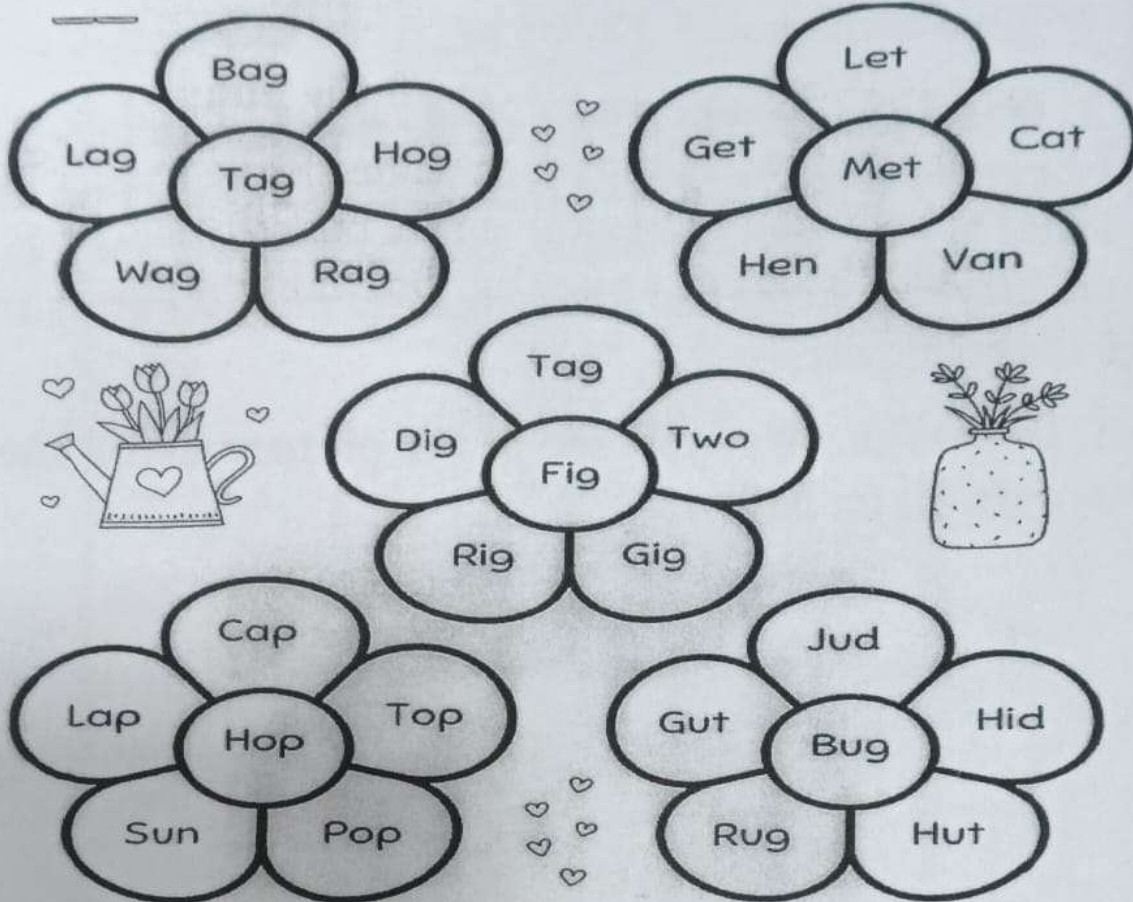
---

---

---

---

3. Read the words in each flower. Colour all the words that rhyme with the word in the center of the flower.



4. Rearrange the words to make meaningful sentences:-

i. dog / brown / is / my.

Ans. \_\_\_\_\_

ii. Playing / football / children / are / the.

Ans. \_\_\_\_\_

iii. sister / my / reading / is / book / a.

Ans. \_\_\_\_\_

iv. we / park / the / to / going / are.

Ans. \_\_\_\_\_


Subject:-Environmental Science

Class - III

STUDENT'S NAME \_\_\_\_\_

SECTION \_\_\_\_\_

Question 1. In the crossword puzzle given below the names of the relatives are incomplete. Complete the crossword puzzle.




Question 2. Write the helpline numbers for the following.

- i) Police
- ii) Senior citizen helpline
- iii) Ambulance
- iv) Fire engine
- v) Women helpline
- vi) Natural Disaster helpline

- vii) Road accident helpline



Question 3. Match the following roadsigns with their meanings.



Children crossing  
Pedestrian crossing  
Traffic light  
Turn right  
Stop  
No entry  
Turn left  
Go straight



Question 4. Fill in the blanks.

**NATIONAL FESTIVAL**

\_\_\_\_\_  
\_\_\_\_\_  
\_\_\_\_\_

**DATE**

2<sup>nd</sup> October

15<sup>th</sup> August

26<sup>th</sup> January

**RELIGIOUS FESTIVALS**

- i) Festival of lights \_\_\_\_\_
- ii) Festival of colours \_\_\_\_\_
- iii) Festival that celebrates the victory of good over evil. \_\_\_\_\_
- iv) Festival celebrated after 30 days of fasting. \_\_\_\_\_
- v) Festival that celebrates the birth of Jesus Christ. \_\_\_\_\_

GRADE: III  
MATHS

NAME: \_\_\_\_\_

SECTION: \_\_\_\_\_

Q1. Refer to the month of July 2025 and use the specified data to answer the question given below.

**JULY 2025**

SUN	MON	TUE	WED	THU	FRI	SAT
		1 NATIONAL DOCTOR DAY	2	3	4	5
6 MOHARRAM FESTIVAL	7	8	9	10	11 WORLD POPULATION DAY	12
13	14	15	16	17	18	19 VISIT TO HAINITAL ZOO
20	21	22 CELEBRATE NANU BIRTHDAY	23	24	25	26
27 WENT TO CHITAI TEMPLE	28	29	30	31 WENT TO WATER PARK		

i. On what date and day of the week did I visit the zoo?

Ans. \_\_\_\_\_

ii. On which date is National Doctor's Day celebrated in India?

Ans. \_\_\_\_\_

iii. What happened on 22<sup>nd</sup> July?

Ans. \_\_\_\_\_

iv. When is World population day celebrated?

Ans. \_\_\_\_\_

v. Mom! Could you remind me where we went on the last day of July?

Ans. \_\_\_\_\_

Q2. (a) Write the following number in ascending order.

(i) 179, 198, 154, 160, 6

(ii) 68, 148, 28, 118, 180


(b) Write the following number in descending order.



(i)

194	45	82	170	117

(ii)

49	174	26	162	54



Q3. Colour the boxes with odd number in the given grid. Can you make a trail to help the mouse find the cheese?

### The Odd Mouse Path

3	57	93	90	38	40	14	34	16	2	36
46	8	51	42	10	28	50				2
14	10	65	88	96	70	48				58
2	87	79	30	20	8	20				22
24	56	78	34	42	1	80	16	26	18	24
40	50	72	54	6	55	44	34	20	38	64
84	51	9	97	43	31	40	22	6	99	29
26	13	74	82	8	50	68	0	66	79	18
76	49	32					4	78	57	16
28	7	60					12	64	59	12
81	21	72					80	76	31	86
47	74	6					62	34	87	22
93	0	72					0	73	31	96
25	36	52	4	38	70	66	28	29	48	4
15	69	11	63	5	19	37	21	85	2	10

4	78	57	16	92	1	62	58
12	64	59	12	8	17	60	2
80	76	31	86	90	99	94	58
62	34	87	22				
0	73	31	96				



# के0वी 0एम 0पब्लिक स्कूल

## ग्रीष्मावकाश गृह कार्य

### विषय हिंदी

#### कक्षा 3

#### छात्र/छात्रा का नाम -

1. नीचे दिए गए अपठित गद्यांश को पढ़कर दिए गए प्रश्नों के उत्तर लिखिए।

नारियल बहुत उपयोगी पेड़ है। नारियल का पेड़ बहुत ऊंचा होता है। यह समुद्र के पास रेतीली जमीन में उगता है। नारियल का पानी मीठा और स्वादिष्ट होता है। इसके पत्तों से चटाइयाँ और टोकरियाँ बनती हैं। नारियल के फल को श्रीफल कहते हैं। इसे पवित्र माना जाता है। इसलिए यह पूजा के काम आता है। इसे मंदिरों में भी चढ़ाया जाता है।

क. नारियल का पेड़ कैसा होता है?

अ) छोटा                      ब) ऊंचा                      स) मोटा

ख. नारियल कहाँ उगता है ?

अ) पानी में                      ब) रेतीली जमीन में                      स) बंजर जमीन में

ग. नारियल का पानी कैसा होता है?

अ) खट्टा                      ब) मीठा                      स) कड़वा

घ. 'नीचा' शब्द का विलोम गद्यांश में से ढूँढकर लिखिए।

2. सही विलोम शब्द चुनकर लिखिए।

रात	गंदा	नीचे	उधर	ठंडा
पतला	छोटा	रोना	बुरा	बाहर
अंदर -		ऊपर -		
गरम -		दिन -		
मोटा -		इधर -		
साफ़ -		अच्छा -		
बड़ा -		हँसना -		

3. दिए गए चित्र को देखकर पांच वाक्य लिखिए ।




---



---



---



---



---



---

4. निम्न वर्ग पहेली में से राज्यों की भाषाओं के नाम ढूंढ कर लिखिए।

बंगाल , महाराष्ट्र, उत्तर प्रदेश, पंजाब, तमिलनाडु, आंध्र प्रदेश

पं	जा	बी	म	त
तो	हिं	दी	रा	मि
ल	च	ह	ठी	ल
गु	ज	रा	ती	न
बां	ग्ला	क	त्र	ड