



Class 5 Holiday Home work

Name: _____

Class & Section: _____

Date: _____

ENGLISH

Section A: Identify the Part of Speech

Write the part of speech for each underlined word.

1. She runs very fast. → _____

2. The beautiful flower bloomed in the garden. → _____

3. He jumped over the fence. → _____

4. I bought a new book. → _____

5. Wow! That's amazing. → _____

Section B: Identify the Subject and Predicate

1. The sun rises in the east.

Subject: _____

Predicate: _____

2. The students are playing football.

Subject: _____

Predicate: _____

3. My mother cooks delicious meals.

Subject: _____

Predicate: _____

Section C: Identify the Type of Noun

1. The team played well. (What type of noun is "team"?)
2. Happiness is a feeling. (What type of noun is "happiness")
3. London is a beautiful city. (What type of noun is "London"?)
4. A flock of birds flew overhead. (What type of noun is "flock"?)

Section D: Change the Gender

1. Actor → _____ (female)
2. Waitress → _____ (male)
3. Bride → _____ (male)
4. Father → _____ (female)
5. Heroine → _____ (male)

Section E: Creative Challenge (Do it in your grammar copy)

Write a letter to your friend telling him or her about your summer holidays.

Section F: Unseen Passage(Note- Do it in your grammar copy)

The ancient city of Petra was once the capital of the Nabataean Kingdom. Located in modern-day Jordan, Petra is famous for its rock-cut architecture and stunning natural surroundings. The city was carved into the sandstone cliffs over 2,000 years ago and features intricate facades, temples, and tombs. Petra's strategic location allowed it to control the trade routes between the East and West, making it a significant center of commerce and culture.

Questions

1. Where is the ancient city of Petra located?
2. What is Petra famous for?
3. How long ago was Petra carved into the sandstone cliffs?
4. Why was Petra an important city?

EVS

1. Draw the diagram of respiratory system and label it and draw in EVS copy.
2. On A4 white sheet write 5 points on how to keep your lungs clean.

HINDI

प्रश्न-क) उचित शब्दों से रिक्त स्थानों की पूर्ति कीजिए - 3

- 1) भाषा के _____ रूप में हम लिखकर अपनी बात दूसरों को समझाते हैं।
- 2) किसी राष्ट्र के संपूर्ण क्षेत्र में बोली जाने वाली भाषा को _____ कहते हैं।
- 3) लिखने के लिए संकेत चिह्नों को _____ कहते हैं।
- 4) अंतस्थ व्यंजनों की संख्या _____ होती है।

- 5) वाक्य में जिसके विषय में कुछ कहा जाता है उसे ____ कहते हैं।
 6) स्थानीय बोलियों से हिंदी भाषा में ग्रहण किए गए शब्दों को ____ कहते हैं।

प्रश्न-ख) सही कथन पर 'स' तथा गलत कथन पर 'ग' लिखिए - 3

- 1) वाक्य में आए सभी शब्द 'पद' कहलाते हैं। []
- 2) जिन शब्दों से कोई अर्थ न निकले उन्हें सार्थक शब्द कहते हैं। []
- 3) स्पर्श व्यंजनों की संख्या 33 होती है। []
- 4) जिन वर्णों का उच्चारण स्वरों की सहायता से होता है उन्हें व्यंजन कहते हैं। []
- 5) रेडियो वार्ता लिखित भाषा का उदाहरण है। []
- 6) हिंदी हमारी राजभाषा है। []

प्रश्न-ग) निम्नलिखित व्यंजनों के वर्णों को लिखें- 3

- क) अंतःस्थ व्यंजन - _____
 ख) उष्म व्यंजन - _____
 ग) संयुक्त व्यंजन- _____

प्रश्न-घ) दिए गए द्वित्व व्यंजनों से दो-दो शब्द बनाइए - 3

- क) च्च - _____ , _____
 ख) स्स - _____ , _____
 ग) ल्ल - _____ , _____

प्रश्न-ङ) निम्नलिखित शब्दों के तत्सम रूप लिखिए - 3

- क) कुँआ _____ ख) साँप _____
 ग) अनाज _____ घ) आम _____
 ङ) कान _____ च) चमड़ा _____

प्रश्न-च) दिए गए शब्दों के विलोम शब्द लिखें- 3

- अमृत _____ अनाथ _____
 आविर्भाव _____ आयात _____
 आगमन _____ इच्छा _____

प्रश्न-छ) दिए गए शब्दों के दो-दो पर्यायवाची शब्द लिखें - 2

- आनंद- _____ , _____
 अमृत- _____ , _____
 कोयल- _____ , _____
 गंगा- _____ , _____

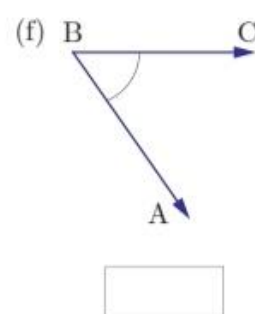
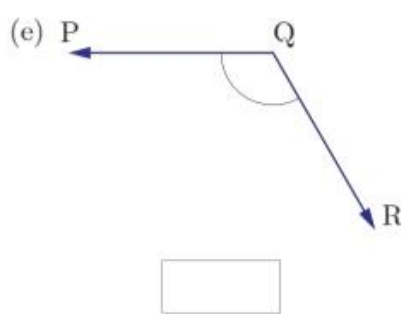
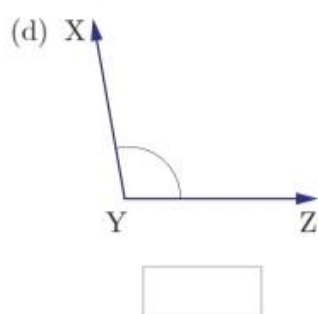
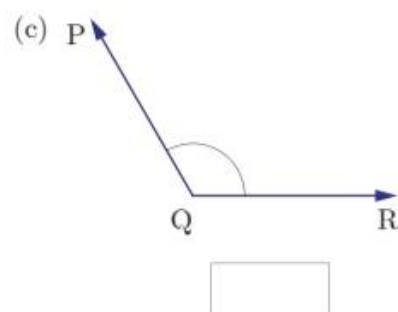
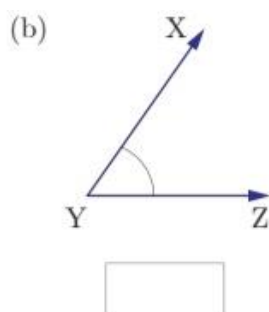
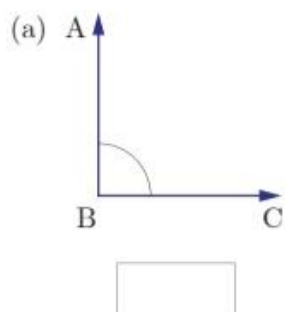
प्रश्न-ज) दिए गए विषयों पर अनुच्छेद अपनी उत्तर पुस्तिका में लिखें-

प्रातःकाल तथा मीठे बोल

प्रश्न-ज) दो दिनों के अवकाश के लिए प्रधानाचार्या को पत्र लिखें -

MATHS

Q.1.Measure the angle with the protractor (D).



Q.2. Classify the angle as acute, obtuse, right and straight angle.

a. 36° _____

b. 45° _____

c. 82° _____

d. 90° _____

e. 110° _____

f. 150° _____

Q. 3. Draw the hand of clock so that they form a right angle and write the time too.

Q. 4. Draw the following angle using protractor.

(a) 45°



(b) 90°



(c) 115°



(d) 180°



Q. 5. Write the time and types of angle shown in each clock.

(a)



(b)



(c)



(d)



(e)



(f)



COMPUTER

1. Describe the term Netiquette and topics to understand that comes under it (Email courtesy, Copyright law, Cyberbullying, Safety on the Net). Do it in copy.

